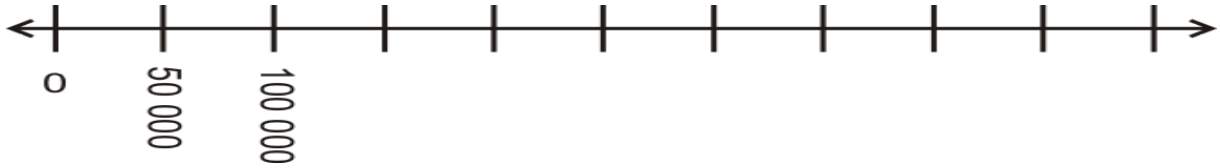


1/2 PL

ÚKOL 1:

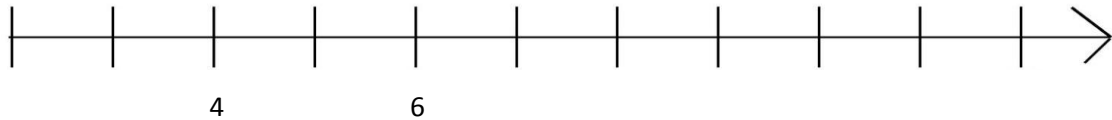
Doplň stupnici na číselné ose:



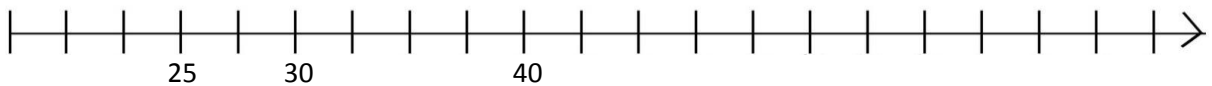
ÚKOL 2:

Zaznač čísla na číselné ose:

3, 8, 11, 12



20, 35, 50, 65



ÚKOL 3:

Doplň vzestupnou číselnou řadu:

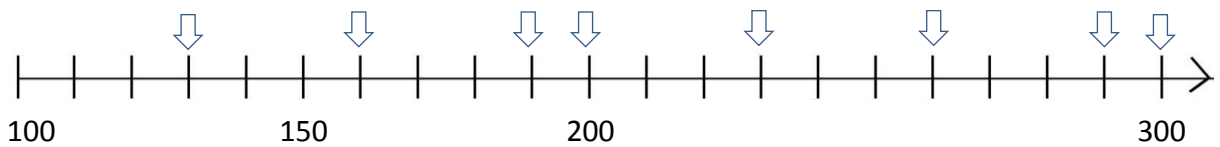
166, 167, _____, 169, _____, 171, 172, _____, _____, _____, 176, _____, _____

Doplň sestupnou číselnou řadu:

978, _____, _____, 975, 974, _____, 972, _____, _____, _____, _____, 967, _____

ÚKOL 4:

Vylušti z číselné osy:



A 100	Š 110	D 130	N 150	O 160
I 180	B 190	Ř 200	K 220	E 230
M 240	T 260	L 270	Y 290	! 300

Řešení: _____